

Übungstest

Theorie Stufe 2

1. Wie heissen die Töne?

-> Zeichne zunächst Deinen Notenschlüssel und schreibe dann die Töne an.



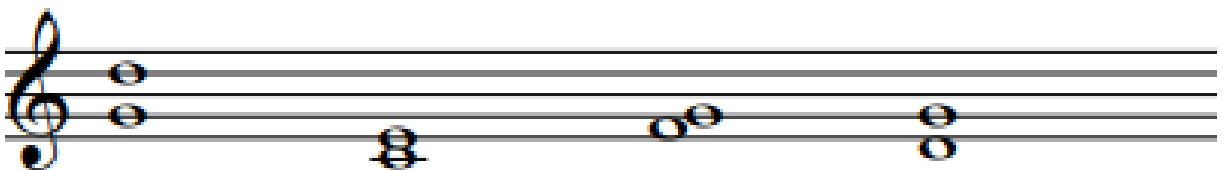
2. Wie sehen die Noten- und Pausenwerte aus?

-> Zeichne die Noten oder Pausen.

4 Sechzehntel (Noten)	Punktierte Viertel- und eine Achtel (Noten)	Viertel (Pause)	Halbe (Noten)

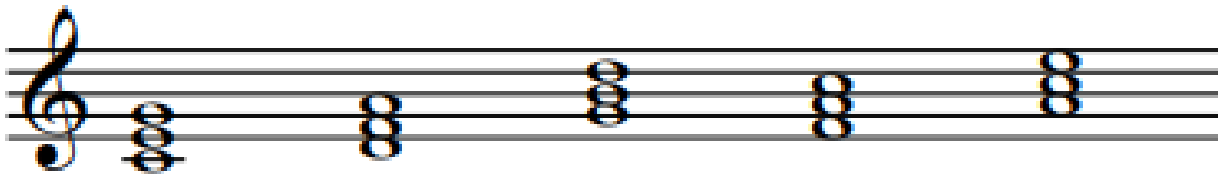
3. Welche Intervalle sind das?

-> Male die Sekunde rot, die Terz grün, die Quarte gelb und die Quinte blau an.



4. Welche dieser fünf Dreiklänge sind in Dur?

-> Umrahme die Dur-Dreiklänge.



5. Ein bekanntes Lied:



3a Welche Taktart hat dieses Lied?

3b. Mit welchem Intervall beginnt das Lied?

3c. Wie viele punktierte Viertelnoten hat es in diesem Lied?

3d. Zusatzfrage: Weisst Du vielleicht, wie dieses Lied heisst?

4. Was passt zusammen?

-> Verbinde!

Auflösungszeichen



staccato



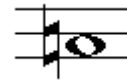
crescendo



leiser werden

diminuendo

legato



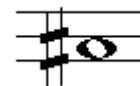
C-Dur-Tonleiter



Kreuz

Presto

Schnell
(Schnelles Tempo)



Viel Glück 